

# 小6

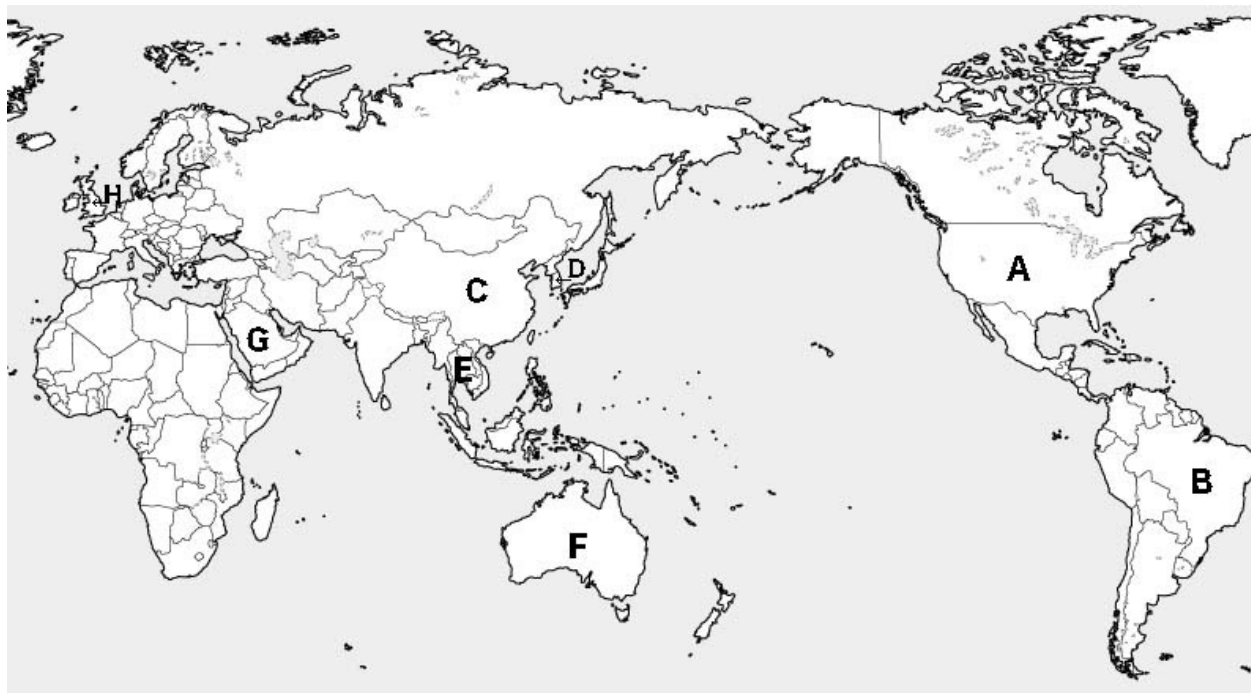
## ◆結びつく日本と世界◆

上巻10回

氏名

得点

各10点  
300点



問1～7の説明を読み、国の名前を答えよ。またその国の場所を上地図から選び、記号で答えよ。			
1	人口が約14億人で世界一多く、漢字や紙を日本に伝えた国。著しい経済発展の反面、環境汚染や経済格差などの問題もある。人口を抑えるため、一人っ子政策をしていたが廃止した。	国名	場所
2	この半島から仏教が伝えられた。近代の一時期、日本と併合したこともある。首都はソウル。	国名	場所
3	日本の真南に位置し、季節も逆。首都はキャンベラだが、中心都市はシドニー。元はイギリス植民地で、言語は英語、国旗もイギリスのユニオンジャックに似ている。	国名	場所
4	東南アジアにある仏教国で、男子は一生に一度仏教の修行をする。一年中気温が高く、米の輸出は世界一。首都はバンコク。	国名	場所
5	現代日本の政治経済文化に大きく影響を与えている。日本に軍用基地をおく。首都はワシントンDCで大統領官邸のホワイトハウスがある。	国名	場所

6	南米大陸にある。コーヒー豆・鉄鉱石など資源大国。明治以降多くの日本人が移民している国。ポルトガル語を使う。カーニバルが有名。	国名	場所
7	国土の大部分が砂漠で石油の輸出世界一。イスラム教がさかんで、メッカはムハンマドの生誕地。男女の別行動など、宗教を厳格に守る国。	国名	場所
8	オーストラリアの先住民族であり、長い間白人によって差別されてきた民族は何か。		
9	朝鮮の女性の伝統的な衣装を(①)という。朝鮮独自の文字で、「ㄱㅇ」のような文字を(②)という。	①	②
10	海外から原料や燃料を輸入し、工業製品を輸出する貿易を何というか。資源がとぼしい日本やイギリスなどの国で行われる。		
11	原料などを輸入する貿易の状況から、1980年代からは製品輸入も増えてきている。そのことについて正しくないものを選べ。 ア、日本企業の現地生産が増え、それを日本に逆輸入するケースが増えている。 イ、輸入品目は家電製品などの工業製品で、食料品などの輸入は減っている。 ウ、中国・東南アジアなどでも工業化が進み、安い製品が輸入されるようになった。		
12	アメリカとの貿易摩擦で問題になった輸出品を古い順に並び替えよ。ア、せんい製品 イ、牛肉・オレンジ ウ、自動車 エ、半導体	⇒	⇒ ⇒
13	2015年時点の日本の最大の貿易相手国で、日本の輸入額が第1位の国はどこか。		
14	輸入国の政府が輸入品にかかる税金を(①)という。この税率を高くしたりして、制限が加えられた貿易を(②)という。	①	②
15	問14のような貿易をやめさせ、貿易の自由化を目指している国際機関を何というか。ただし加盟国全体の合意を得るのは難しいという問題を抱えている。		
16	特定の国や地域同士が、お互いに関税を撤廃して、自由な貿易を進めることを目指して結ばれる協定を( )という。		
17	特定の国や地域同士が、貿易だけでなく人やお金や技術協力を自由に行えるようにする協定を( )という。(例 外国人の看護師が日本で働くようにする)		

18	発展途上国と先進工業国間の経済格差を(①)といい、その解決を図る機関が(②)である。②は記号から選べ。 ア、IMF イ、UNCTAD ウ、UNESCO	①	②
19	経度0度の線を(①)という。またこの0度の線が通るのが旧グリニッジ天文台のある(②)という国である。	①	②
20	ほぼ経度180度に沿った線で、西から東へこえる時は日付を1日前へ戻し、東から西へこえる時は日付を1日進める線を何というか。		
21	日本の時刻のもととなる経線を(①)線といい、兵庫県明石市などを通る東経(②)度を通過する。	①	②
22	日本が1月1日午前10時の時に、アメリカのサンフランシスコ(西経120°)での日時を答えよ。	<div style="text-align: center;">             月                  日                  時           </div>	
23		①	
	①上の図法の名前を答えよ。 ②上の図法の説明で誤っているものを記号で選び答えよ。 ア、角度が正しく、航海図に利用される。 イ、緯線と経線が直角に交わるように描かれる。 ウ、面積は正しく表せず、緯度が低いほど大きく描かれてしまう。	②	
24	経済成長が著しい <b>ブラジル・ロシア・インド・中国・南アフリカ共和国</b> らをまとめて( )と呼ぶ。		
25	次の語群は各国の <b>日本への輸出品の品目</b> であるが、それぞれの国名を答えよ。 ①機械類、航空機、医薬品 ②機械類、衣類、金属製品 ③機械類、石油製品、鉄鋼 ④石炭、鉄鉱石、液化天然ガス、肉類	①	②
		③	④

26		①		
	<p>上の図法の名前は (①) である。中心からの距離と方位が正しく表され、 (②) として利用される。</p>	②		
27	<p>東南アジアの平和と安全を守るため作られた地域連合を ( ) といい、現在10か国が加盟している。</p>			
28	<p>1993年に作られたヨーロッパの地域連合を (①) という。多くの国で共通通貨の (②) が使われている。</p>	<table border="1"> <tr> <td data-bbox="903 866 1150 1003">①</td> <td data-bbox="1150 866 1426 1003">②</td> </tr> </table>	①	②
①	②			
29	<p>G8 (現在はG7) サミットの参加国ではない国を選べ。 ア、イタリア イ、ドイツ ウ、中国 エ、カナダ</p>			
30	<p>第二次大戦後、分断されていたが1989年に (①) が崩壊し、統一した国はドイツである。日本へは自動車や医薬品を輸出している。またかつては「世界の工場」と言われ、世界中に植民地を持っていた国は (②) である。この国の通貨はヨーロッパ共通通貨を使わず、独自通貨のポンドを使用。元首はエリザベス女王だが、政治上の権限を持たない。この国はヨーロッパの地域連合から脱退をした。</p>	<table border="1"> <tr> <td data-bbox="903 1167 1426 1355">①</td> </tr> <tr> <td data-bbox="903 1355 1426 1536">②</td> </tr> </table>	①	②
①				
②				

# 小6

## ◆結びつく日本と世界◆

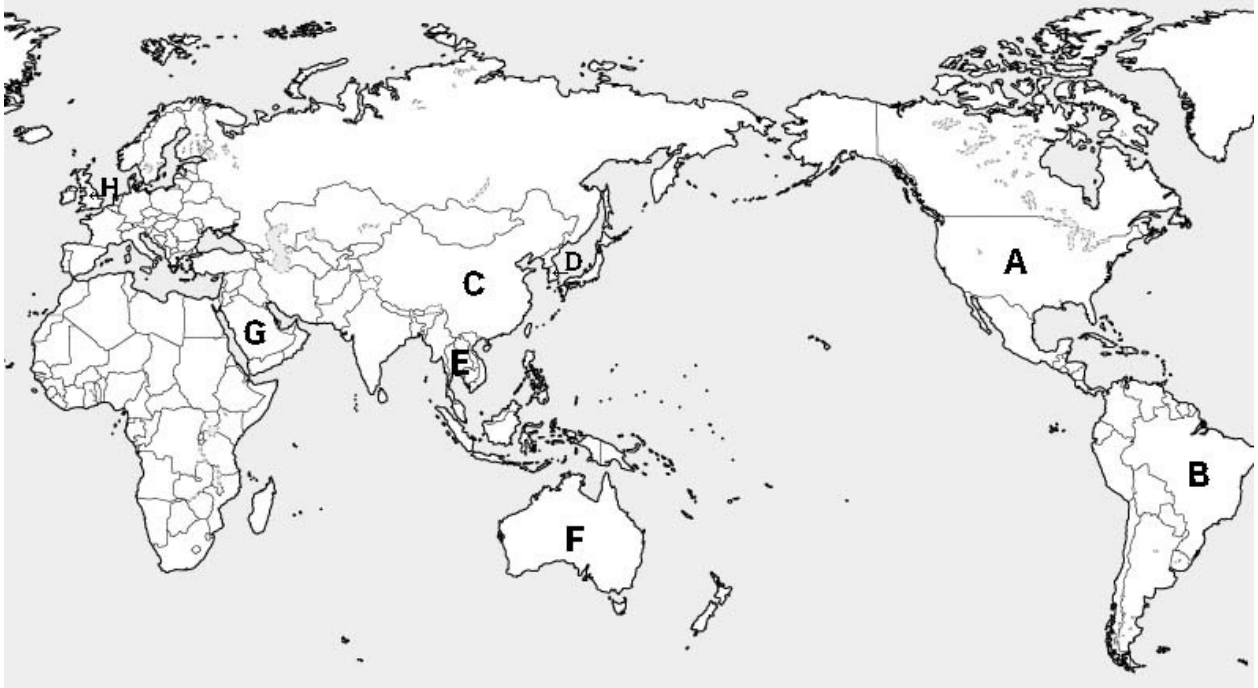
上巻10回

氏名

満点 とれ太

得点

各10点  
300点

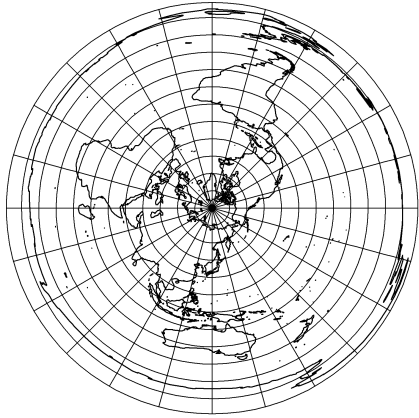


問1～7の説明を読み、国の名前を答えよ。またその国の場所を上地図から選び、記号で答えよ。

1	人口が約14億人で世界一多く、漢字や紙を日本に伝えた国。著しい経済発展の反面、環境汚染や経済格差などの問題もある。人口を抑えるため、一人っ子政策をしていたが廃止した。	中華人民共和国	C
2	この半島から仏教が伝えられた。近代の一時期、日本と併合したこともある。首都はソウル。	大韓民国	D
3	日本の真南に位置し、季節も逆。首都はキャンベラだが、中心都市はシドニー。元はイギリス植民地で、言語は英語、国旗もイギリスのユニオンジャックに似ている。	オーストラリア	F
4	東南アジアにある仏教国で、男子は一生に一度仏教の修行をする。一年中気温が高く、米の輸出は世界一。首都はバンコク。	タイ	E
5	現代日本の政治経済文化に大きく影響を与えている。日本に軍用基地をおく。首都はワシントンDCで大統領官邸のホワイトハウスがある。	アメリカ合衆国	A

6	南米大陸にある。コーヒー豆・鉄鉱石など資源大国。明治以降多くの日本人が移民している国。ポルトガル語を使う。カーニバルが有名。	ブラジル	B
7	国土の大部分が砂漠で石油の輸出世界一。イスラム教がさかんで、メッカはムハンマドの生誕地。男女の別行動など、宗教を厳格に守る国。	サウジアラビア	G
8	オーストラリアの先住民族であり、長い間白人によって差別されてきた民族は何か。	アボリジニー	
9	朝鮮の女性の伝統的な衣装を(①)という。朝鮮独自の文字で、「ㄱㅇ」のような文字を(②)という。	①チマ・チョゴリ	②ハングル
10	海外から原料や燃料を輸入し、工業製品を輸出する貿易を何というか。資源がとぼしい日本やイギリスなどの国で行われる。	加工貿易	
11	原料などを輸入する貿易の状況から、1980年代からは製品輸入も増えてきている。そのことについて正しくないものを選べ。 ア、日本企業の現地生産が増え、それを日本に逆輸入するケースが増えている。 イ、輸入品目は家電製品などの工業製品で、食料品などの輸入は減っている。 ウ、中国・東南アジアなどでも工業化が進み、安い製品が輸入されるようになった。	イ	
12	アメリカとの貿易摩擦で問題になった輸出品を古い順に並び替えよ。ア、せんい製品 イ、牛肉・オレンジ ウ、自動車 エ、半導体	ア⇒ウ⇒エ⇒イ	
13	2015年時点の日本の最大の貿易相手国で、日本の輸入額が第1位の国はどこか。	中華人民共和国	
14	輸入国の政府が輸入品にかかる税金を(①)という。この税率を高くしたりして、制限が加えられた貿易を(②)という。	①関税	②保護貿易
15	問14のような貿易をやめさせ、貿易の自由化を目指している国際機関を何というか。ただし加盟国全体の合意を得るのは難しいという問題を抱えている。	世界貿易機関 (WTO)	
16	特定の国や地域同士が、お互いに関税を撤廃して、自由な貿易を進めることを目指して結ばれる協定を( )という。	自由貿易協定 (FTA)	
17	特定の国や地域同士が、貿易だけでなく人やお金や技術協力を自由に行えるようにする協定を( )という。(例 外国人の看護師が日本で働くようにする)	経済連携協定 (EPA)	

18	<p>発展途上国と先進工業国間の経済格差を(①)といい、その解決を図る機関が(②)である。②は記号から選べ。</p> <p>ア、IMF イ、UNCTAD ウ、UNESCO</p>	①南北問題	②イ
19	<p>経度0度の線を(①)という。またこの0度の線が通るのが旧グリニッジ天文台のある(②)という国である。</p>	①本初子午線	②イギリス
20	<p>ほぼ経度180度に沿った線で、西から東へこえる時は日付を1日前へ戻し、東から西へこえる時は日付を1日進める線を何というか。</p>	日付変更線	
21	<p>日本の時刻のもととなる経線を(①)線といい、兵庫県明石市などを通る東経(②)度を通過する。</p>	①日本標準時子午	②135
22	<p>日本が1月1日午前10時の時に、アメリカのサンフランシスコ(西経120°)での日時を答えよ。</p>	12月31日午後5時	
23		①メルカトル図法	
	<p>①上の図法の名前を答えよ。</p> <p>②上の図法の説明で誤っているものを記号で選び答えよ。</p> <p>ア、角度が正しく、航海図に利用される。</p> <p>イ、緯線と経線が直角に交わるように描かれる。</p> <p>ウ、面積は正しく表せず、緯度が低いほど大きく描かれてしまう。</p>	②ウ (緯度が高いほど面積が実際より大きく表されてしまう。グリーンランドがオーストラリア大陸より大きくなってしまふことは有名)	
24	<p>経済成長が著しい<b>ブラジル・ロシア・インド・中国・南アフリカ共和国</b>らをまとめて( )と呼ぶ。</p>	BRICS (ブリックス)	
25	<p>次の語群は各国の<b>日本への輸出品の品目</b>であるが、それぞれの国名を答えよ。</p> <p>①機械類、航空機、医薬品</p> <p>②機械類、衣類、金属製品</p> <p>③機械類、石油製品、鉄鋼</p> <p>④石炭、鉄鉱石、液化天然ガス、肉類</p>	① アメリカ	② 中国
		③ 韓国	④ オーストラリア

26		<small>せいきよほういずほう</small> ①正距方位図法	
上の図法の名前は (①) である。中心からの距離と方位が正しく表され、(②) として利用される。		②航空図	
27	東南アジアの平和と安全を守るため作られた地域連合を ( ) といい、現在10か国が加盟している。	東南アジア諸国連合 (ASEANアセアン)	
28	1993年に作られたヨーロッパの地域連合を (①) という。多くの国で共通通貨の (②) が使われている。	①ヨーロッパ連合 (EU)	② ユーロ
29	G8 (現在はG7) サミットの参加国ではない国を選べ。 ア、イタリア イ、ドイツ ウ、中国 エ、カナダ	ウ	
30	第二次大戦後、分断されていたが1989年に (①) が崩壊し、統一した国はドイツである。日本へは自動車や医薬品を輸出している。またかつては「世界の工場」と言われ、世界中に植民地を持っていた国は (②) である。この国の通貨はヨーロッパ共通通貨を使わず、独自通貨のポンドを使用。元首はエリザベス女王だが、政治上の権限を持たない。この国はヨーロッパの地域連合から脱退をした。	①ベルリンの壁  ②イギリス	