

小5

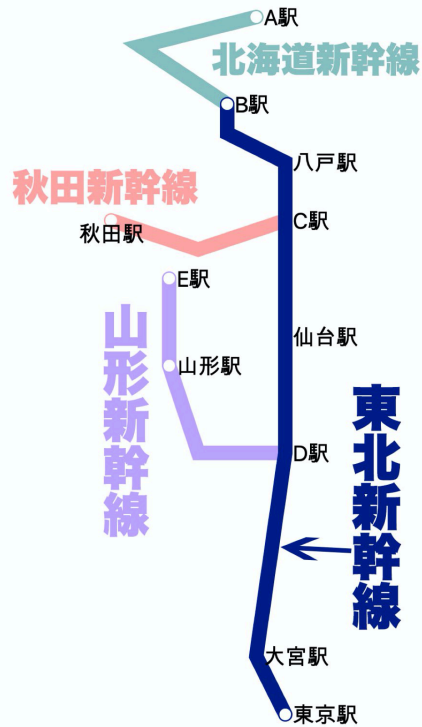
◆新幹線問題◆

氏名

得点

各5点

図1



1

図1のA駅の名前を答えよ。

2

図1のB駅の名前を答えよ。

3

図1のC駅の名前を答えよ。

4

図1のD駅の名前を答えよ。

5

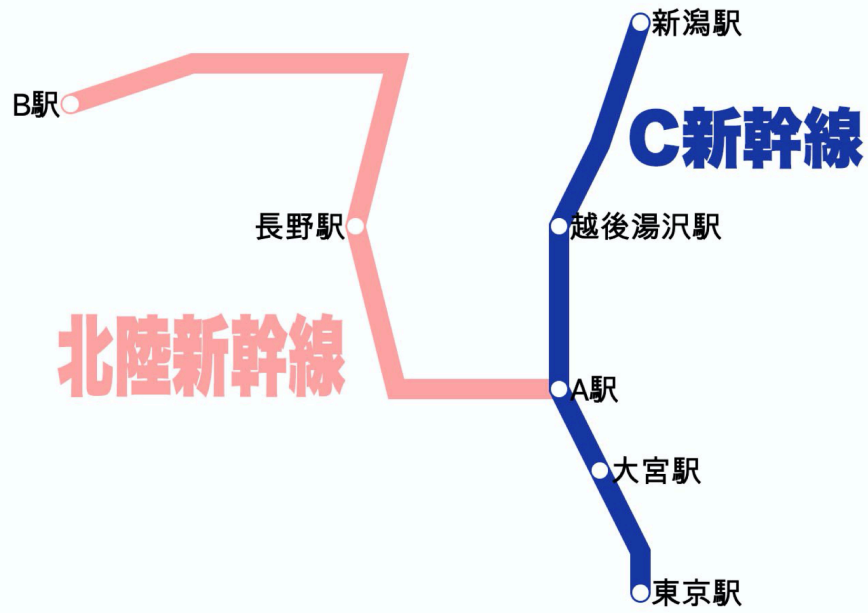
図1のE駅の名前を答えよ。

6

在来線を利用した秋田新幹線や山形新幹線のような新幹線を()という。

7	東北新幹線が通過する都道府県は、東京→埼玉→(①)→(②)→福島→宮城→岩手→青森の8つである。	①	②
図2			
8	図2のA駅の名前を答えよ。		
9	図2のD新幹線の名前を答えよ。		
10	東海道新幹線が作られた年に、日本で開かれた国際的なイベントの名を答えよ。		
11	図2のB駅の名前を答えよ。		
12	図2のC駅の名前を答えよ。		
13	2022年に開通予定で、武雄温泉～長崎を結ぶ新幹線の名前を答えよ。		
14	東京から福岡に新幹線で向かう時に、通過する川を東から西の順番で並びかえよ。 ア、大井川 イ、富士川 ウ、木曾川 エ、天竜川		
15	東京から福岡に新幹線で向かう時に、通過する都道府県の数えよ。		
16	九州新幹線の通過する県を順番に答えよ。 福岡→佐賀→(①)→(②)→鹿児島	①	②

図3



17

図3のB駅の名前を答えよ。

18

図3のC新幹線の名前を答えよ。

19

図3のA駅の名前を答えよ。

20

現在建設中で、初の電導リニアで駆動する新幹線は何か。完成のあかつきには品川～新大阪を67分で結ぶ予定である。

小5

◆新幹線問題◆

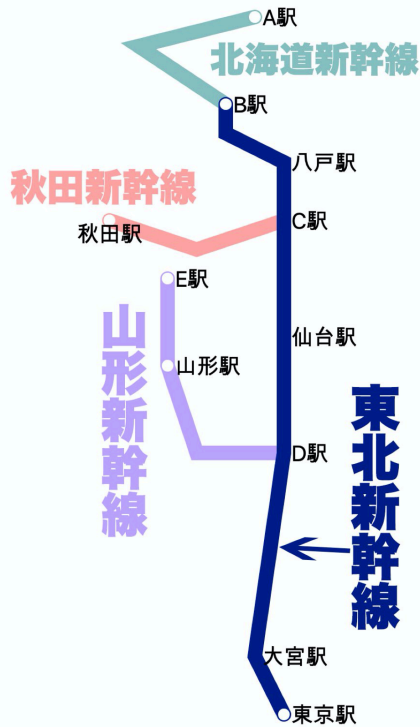
氏名

満点 とれ太

得点

各5点

図1



1

図1のA駅の名前を答えよ。

新函館北斗駅

2

図1のB駅の名前を答えよ。

新青森駅

3

図1のC駅の名前を答えよ。

盛岡駅

4

図1のD駅の名前を答えよ。

福島駅

5

図1のE駅の名前を答えよ。

新庄駅

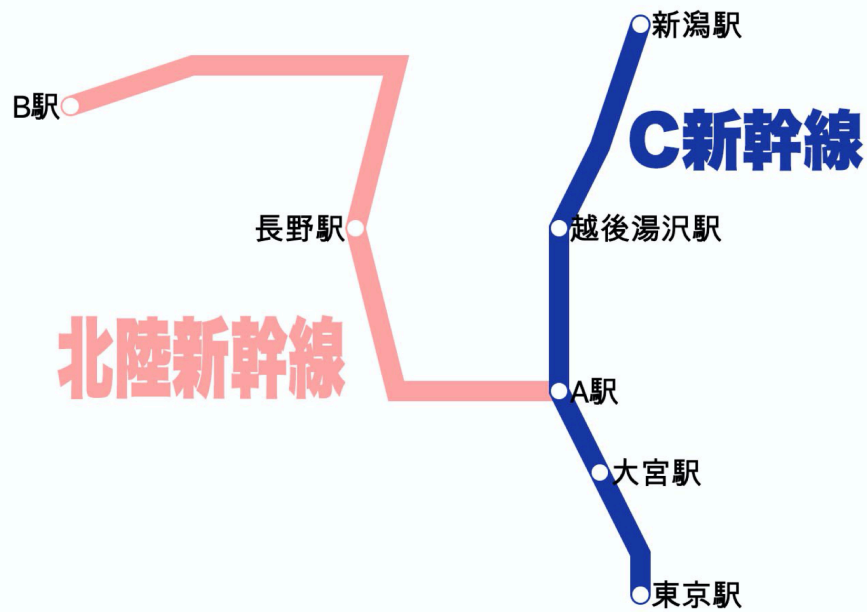
6

在来線を利用した秋田新幹線や山形新幹線のような新幹線を()という。

ミニ新幹線

7	東北新幹線が通過する都道府県は、東京→埼玉→(①)→(②)→福島→宮城→岩手→青森の8つである。	①茨城 (茨城は新幹線駅はない。通過するだけ)	②栃木
図2			
8	図2のA駅の名前を答えよ。	新大阪駅	
9	図2のD新幹線の名前を答えよ。	山陽新幹線	
10	東海道新幹線がつけられた年に、日本で開かれた国際的なイベントの名を答えよ。	東京オリンピック(1964年)	
11	図2のB駅の名前を答えよ。	博多駅	
12	図2のC駅の名前を答えよ。	鹿児島中央駅	
13	2022年に開通予定で、武雄温泉～長崎を結ぶ新幹線の名前を答えよ。	西九州新幹線	
14	東京から福岡に新幹線で向かう時に、通過する川を東から西の順番で並びかえよ。 ア、大井川 イ、富士川 ウ、木曾川 エ、天竜川	イ、ア、エ、ウ	
15	東京から福岡に新幹線で向かう時に、通過する都府県の数えよ。	13 (東京、神奈川、静岡、愛知、岐阜、滋賀、京都、大阪、兵庫、岡山、広島、山口、福岡)	
16	九州新幹線の通過する県を順番に答えよ。 福岡→佐賀→(①)→(②)→鹿児島	①福岡 (いったん佐賀の鳥栖を通った後、再び福岡県内を通過する)	②熊本

図3



17

図3のB駅の名前を答えよ。

金沢駅

18

図3のC新幹線の名前を答えよ。

上越新幹線

19

図3のA駅の名前を答えよ。

高崎駅

20

現在建設中で、初の電導リニアで駆動する新幹線は何か。完成のあかつきには品川～新大阪を67分で結ぶ予定である。

リニア中央新幹線