

# 小5

## ◆日本のすがた◆


上巻9回

氏名

満点 とれ太

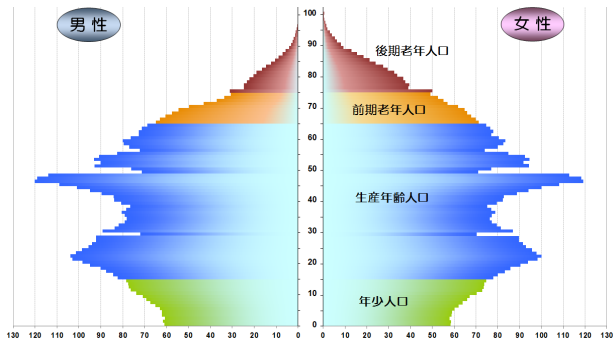
得点

各4点

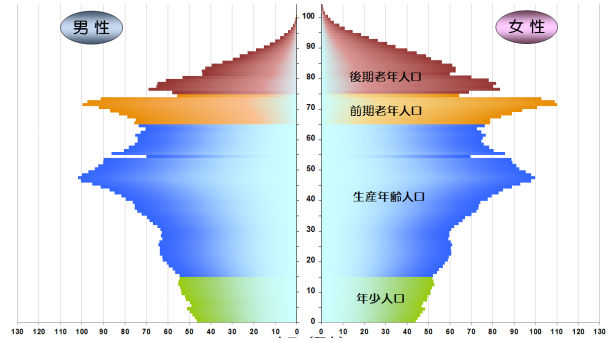
1	<p>日本固有の領土であるが、ロシアにより不法占拠されている「北方領土」を記号でア～エまで4島すべて答えよ。</p> 	ア	イ
		ウ	エ
		<p>記号選択肢</p> <p><small>えとろふ</small> A 択捉島</p> <p><small>くなしり</small> B 国後島</p> <p><small>はぼまい</small> C 歯舞諸島</p> <p><small>しこたん</small> D 色丹島</p>	
2	日本固有の領土であるが、韓国により不法占拠されている、島根県の島は何というか。		
3	日本固有の領土であるが、中国や台湾などが自分たちの領土と主張している、沖縄県に属する諸島は何というか。		
4	日本の時刻のもととなる経線を(①)線といい、兵庫県明石市などを通る東経(②)度を通過する。	①	②
5	日本のおよそ45倍の国土面積を持つ、世界一広い国の名を答えよ。		
6	人口14億人以上いると言われる、世界一人口の多い国の名を答えよ。		
7	世界の人口は2011年に(①)億人をこえたと言われ、地域では特に(②)での人口増加が目立っている。	①	②
8	日本の人口はどのくらいか。	約	
9	日本の国土面積は(北方領土も含め)約何km <sup>2</sup> か。	約	

10	日本は多くの島々から成り立っている。その数はどのくらいか、記号で答えよ。 ア、12800 イ、3000 ウ、6850 エ、700		
11	0度の経線をあらわす線を何というか。		
12	日本列島を東西に分ける大きな溝を（ ）という。この西の端は新潟県糸魚川市から静岡市を結んでいる。		
13	排他的経済水域よりも、外側の海を何というか。		
14	日本の東西南北の端に位置する島の名を記号で答えよ。 ア、与那国島 イ、南鳥島 ウ、択捉島 エ、沖ノ鳥島	北の端	南の端
		東の端	西の端
15	1kmあたりの人口のことを何というか。		
16	四国を1とした時、四国：九州：北海道：本州の面積の比率はどうなるか。	:	:
17	農村などで若い人などの人口が減り、暮らしが成り立ちにくくなることを何というか。		
18	過密化によって引き起こされる都市問題の例をひとつあげよ。		
19	ア、第一次産業 イ、第二次産業 ウ、第三次産業を日本の労働者人口の多い順に並びかえよ。	⇒	⇒
20	商業・サービス業などは第何次産業にあてはまるか。		
21	65歳以上の高齢者が21%以上をしめて、その割合が今後も増えると考えられている社会を何というか。		
22	国民の性別・生年月日・職業などについて、国が5年に一度、10月に行う調査は何というか。		

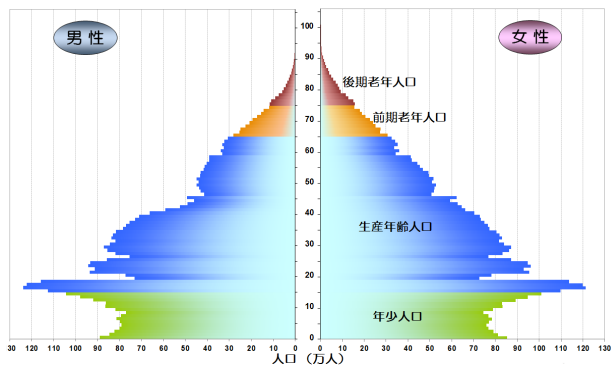
<b>23</b>	多くの子供たちが生まれた時期（1947～49と1971～74）を何というか。	
<b>24</b>	1950年代半ば～1970年代初めにかけて、日本経済が大きく発展し、多くの人口が農村から都市に移転した。この時期を何というか。	
<b>25</b>	下のグラフは日本の1965年、1995年、2020年の人口ピラミッドである。古い順に記号で並び替えよ。	⇒            ⇒



ア



イ




ウ

出典：国立社会保障・人口問題研究所ホームページ (<http://www.ipss.go.jp/>)  
 出典：「日本の将来推計人口（平成29年推計）」（国立社会保障・人口問題研究所）を加工して作成しました。

# 小5

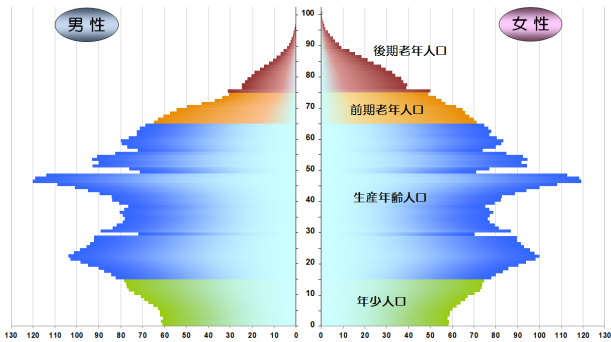
## ◆日本のすがた◆

上巻9回

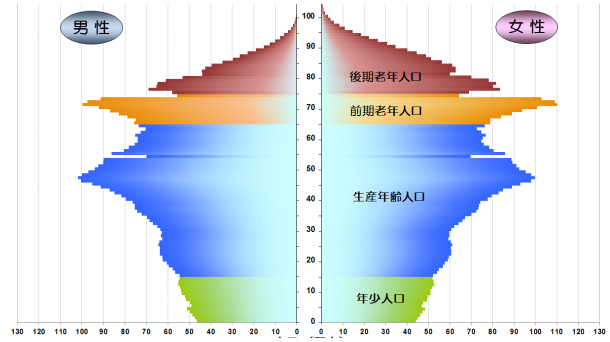
氏名		満点	とれ太	得点	各4点
1	<p>日本固有の領土であるが、ロシアにより不法占拠されている「北方領土」を記号でア～エまで4島すべて答えよ。</p> 	ア C	イ D		
		ウ B	エ A		
		<p>記号選択肢</p> <p><small>えとろふ</small> A 択捉島</p> <p><small>くなしり</small> B 国後島</p> <p><small>はぼまい</small> C 歯舞諸島</p> <p><small>しこたん</small> D 色丹島</p>			
2	日本固有の領土であるが、韓国により不法占拠されている、島根県の島は何というか。	竹島			
3	日本固有の領土であるが、中国や台湾などが自分たちの領土と主張している、沖縄県に属する諸島は何というか。	<small>せんかくしょうとう</small> 尖閣諸島			
4	日本の時刻のもととなる経線を(①)線といい、兵庫県明石市などを通る東経(②)度を通過する。	①日本標準時子午		②135	
5	日本のおよそ45倍の国土面積を持つ、世界一広い国の名を答えよ。	ロシア			
6	人口14億人以上いると言われる、世界一人口の多い国の名を答えよ。	中国(中華人民共和国)			
7	世界の人口は2011年に(①)億人をこえたと言われ、地域では特に(②)での人口増加が目立っている。	①70		②アジア	
8	日本の人口はどのくらいか。	約1億2600万人			
9	日本の国土面積は(北方領土も含め)約何km <sup>2</sup> か。	約37.8万(38万) km <sup>2</sup>			

10	日本は多くの島々から成り立っている。その数はどのくらいか、記号で答えよ。 ア、12800 イ、3000 ウ、6850 エ、700	ウ	
11	0度の経線をあらわす線を何というか。	本初子午線 (イギリスのロンドン、旧グリニッジ天文台跡地)	
12	日本列島を東西に分ける大きな溝を ( ) という。この西の端は新潟県糸魚川市から静岡市を結んでいる。	フォッサマグナ	
13	排他的経済水域よりも、外側の海を何というか。	公海	
14	日本の東西南北の端に位置する島の名を記号で答えよ。 ア、与那国島 イ、南鳥島 ウ、択捉島 エ、沖ノ鳥島	北の端 ウ	南の端 エ
		東の端 イ	西の端 ア
15	1kmあたりの人口のことを何というか。	人口密度	
16	四国を1とした時、四国：九州：北海道：本州の面積の比率はどうなるか。	1：2：4：12	
17	農村などで若い人などの人口が減り、くらしが成り立ちにくくなることを何というか。	かそ過疎	
18	過密化によって引き起こされる都市問題の例をひとつあげよ。	騒音、住宅不足など	
19	ア、第一次産業 イ、第二次産業 ウ、第三次産業を日本の労働者人口の多い順に並びかえよ。	ウ⇒イ⇒ア (第3次産業が70%以上)	
20	商業・サービス業などは第何次産業にあてはまるか。	第三次産業	
21	65歳以上の高齢者が21%以上をしめて、その割合が今後も増えると考えられている社会を何というか。	超高齢社会	
22	国民の性別・生年月日・職業などについて、国が5年に一度、10月に行う調査は何というか。	国勢調査(西暦で5の倍数の年に実施。総務省という役所が調査する)	

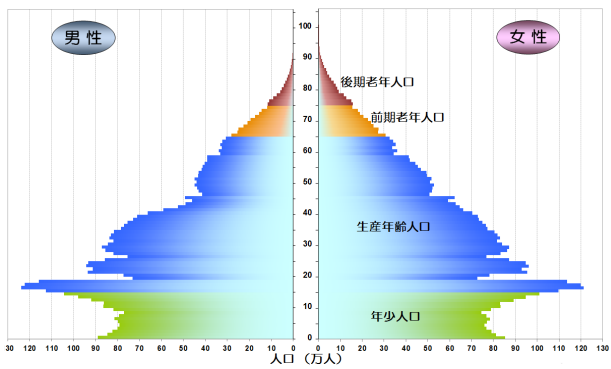
23	多くの子供たちが生まれた時期（1947～49と1971～74）を何というか。	ベビーブーム
24	1950年代半ば～1970年代初めにかけて、日本経済が大きく発展し、多くの人口が農村から都市に移転した。この時期を何というか。	高度経済成長
25	下のグラフは日本の1965年、1995年、2020年の人口ピラミッドである。古い順に記号で並び替えよ。	ウ⇒ア⇒イ（突き出た部分が「第一次ベビーブーム世代」で、この世代の加齢を見ていけばわかる）



ア



イ



ウ

出典：国立社会保障・人口問題研究所ホームページ (<http://www.ipss.go.jp/>)  
 出典：「日本の将来推計人口（平成29年推計）」（国立社会保障・人口問題研究所）を加工して作成しました。