

小4

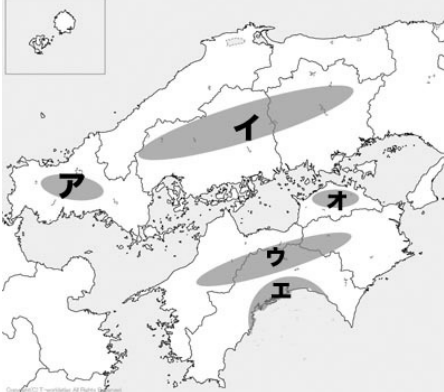
◆雨の少ない地方の暮らし◆

上巻14回

氏名

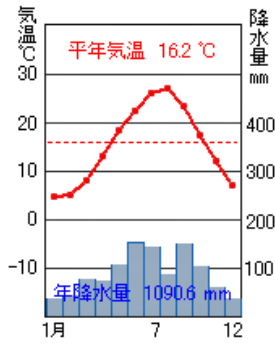
得点

各10点
130点

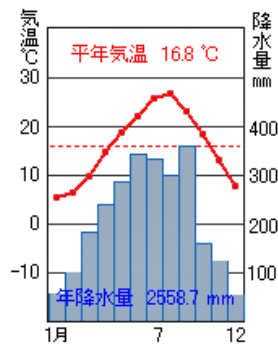
1	<p><small>さぬき</small>讃岐平野が広がっているのは何県か。</p>		
2	<p><small>さぬき</small>讃岐平野が面している海の名前を答えよ。</p>		
3	<p>下の地図を見て答えよ。<small>さぬき</small>讃岐平野の北にある（イ）山地と、南にある（ウ）山地は、<small>さぬき</small>讃岐平野の気候に関係している。</p>	イ	ウ
			
4	<p>雨の量が少なくなり、稲などの育ちが悪くなる日照りの害を（ ）という。</p>		
5	<p><small>さぬき</small>讃岐平野では、昔から水をたくわえておく（ ）池が多く作られてきました。</p>		
6	<p>問5の池の中で、日本一大きい池は（①）というおぼうさんが整備した（②）池である。</p>	①	②
7	<p>1978年に水不足を解消するため、<small>さぬき</small>讃岐平野に（ ）用水が引かれた。</p>		
8	<p>問7の用水は、四国三郎とよばれる（ ）川から引かれている。</p>		
9	<p>四国三郎とよばれる川は、（①）県から（②）県に流れている。</p>	①	②

10	<small>さぬき</small> 讃岐平野の海ぞいの地域で昔、()をつくっていた。	
11	香川県の県庁所在地を選べ。 (松江市 松山市 高松市 松本市)	
12	香川県では、雨が少なくても育つ小麦を原料とする()という食べ物が有名である。	
⇒イラストを参考に！		
13	<small>さぬき</small> 讃岐平野の気候を示しているグラフはアとイのうち、()のグラフである。	

ア



イ



小4

◆雨の少ない地方のくらし◆

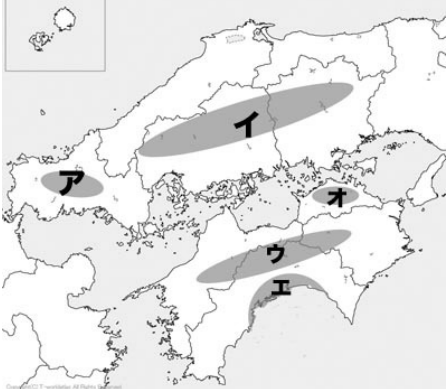
上巻14回

氏名

満点とれ太

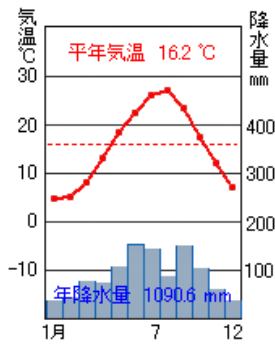
得点

各10点
130点

1	讃岐平野 <small>さぬき</small> が広がっているのは何県か。	香川県	
2	讃岐平野 <small>さぬき</small> が面している海の名前を答えよ。	瀬戸内海	
3	下の地図を見て答えよ。讃岐平野 <small>さぬき</small> の北にある(イ)山地と、南にある(ウ)山地は、讃岐平野の気候に関係している。	イ 中国	ウ 四国
			
4	雨の量が少なくなり、稲などの育ちが悪くなる日照りの害を()という。	かんがい 干害	
5	讃岐平野 <small>さぬき</small> では、昔から水をたくわえておく()池が多く作られてきました。	ため池	
6	問5の池の中で、日本一大きい池は(①)というおぼろさんが整備した(②)池である。	①空海	②満濃 <small>まんのう</small>
7	1978年に水不足を解消するため、讃岐平野 <small>さぬき</small> に()用水が引かれた。	香川	
8	問7の用水は、四国三郎とよばれる()川から引かれている。	吉野	
9	四国三郎とよばれる川は、(①)県から(②)県に流れている。	①高知	②徳島

10	<small>さぬき</small> 讃岐平野の海ぞいの地域で昔、()をつくっていた。	塩田 (塩)
11	香川県の県庁所在地を選べ。 (松江市 松山市 高松市 松本市)	高松市
12	香川県では、雨が少なくても育つ小麦を原料とする()という食べ物がある。	<small>さぬき</small> 讃岐うどん
⇒イラストを参考に！ 		
13	<small>さぬき</small> 讃岐平野の気候を示しているグラフはアとイのうち、()のグラフである。	ア

ア



イ

