

# 小4

## ◆地図の見方(1)◆

















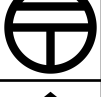








上巻7回


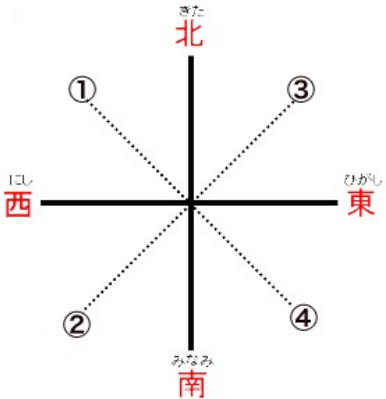
氏名

得点

各10点  
300点

地図記号が何をあらわすか答えなさい。

1			15		
2			16		
3			17		
4			18		
5			19		
6			20		
7			21		
8			22		
9			23		
10			24		
11			25		
12					
13					
14					

26	東・西・南・北などの方角を（ ）という。	
27	地図は、ふつうは（ ）を上にしてつくられている。	
28	下の記号を（ ）という。 	
29	次の①～④にあてはまる方位を答えよ。 	① ② ③ ④
30	実際のきよりを縮めた割合のことを（ ）という。	

# 小4

## ◆地図の見方(1)◆

上巻7回

氏名


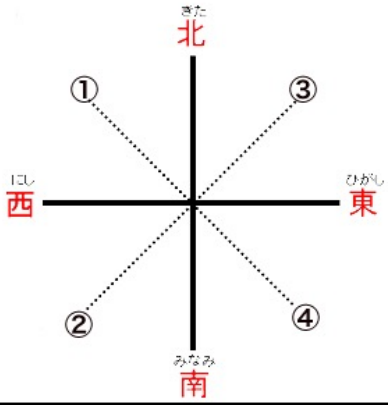
満点 とれ太

得点

各10点  
300点

地図記号が何をあらわすか答えなさい。

1		市役所・区役所	15		畑
2		町村役場	16		かじゅえん 果樹園 (くだもの畑)
3		病院	17		田
4		保健所	18		しんようじゅりん 針葉樹林
5		しょうぼうしょ 消防署	19		こうようじゅりん 広葉樹林
6		図書館	20		茶畑
7		小中学校	21		交番
8		高等学校	22		けいさつしょ 警察署
9		郵便局	23		博物館・美術館
10		老人ホーム	24		裁判所
11		神社	25		風力発電の風車
12		寺院			
13		工場			
14		発電所			

26	東・西・南・北などの方角を（ ）という。	方位
27	地図は、ふつうは（ ）を上にしてつくられている。	北
28	下の記号を（ ）という。 	方位記号
29	次の①～④にあてはまる方位を答えよ。 	①北西 ②南西 ③北東 ④南東
30	実際のきよりを縮めた割合のことを（ ）という。	<small>しゅくしゃく</small> 縮尺